

Ad Soyad :

Öğrenci No

0	0	0	0
1	1	1	1
2	2	2	2
3	3	3	3
4	4	4	4
5	5	5	5
6	6	6	6
7	7	7	7
8	8	8	8
9	9	9	9

1	A	B	C	D
2	A	B	C	D
3	A	B	C	D
4	A	B	C	D
5	A	B	C	D
6	A	B	C	D
7	A	B	C	D
8	A	B	C	D
9	A	B	C	D
10	A	B	C	D
11	A	B	C	D
12	A	B	C	D
13	A	B	C	D
14	A	B	C	D
15	A	B	C	D
16	A	B	C	D
17	A	B	C	D
18	A	B	C	D
19	A	B	C	D
20	A	B	C	D

Optik No :
1878 :

FERNUS

MOD PRO

HAFIZLIK DENEME

15

TÜRKÇE

20 SORU • 40 DAKİKA

DOĞRU SAYISI

YANLIŞ SAYISI

KONU ADI

Sözcükte Anlam

Cümlede Anlam

Paragrafta Anlam

Deyimler

Söz Sanatı

Tablo Okuma

Görsel Okuma

Yazım Kuralları(Kısaltmaların Yazımı)

Dil Bilgisi (Anlam Kayması)



Okut/İndir

GÜNAY
YAYINLARI

Başarılar Dileriz...

1.

Tarladaki pamuk toplanmıştı. Başı yazmalı üç beş kadın pamuk saplarını ayırıyor ve arada bir söktükleri köklerin saçaklarındaki çamuru sallayıp döküyorlardı. Hasır şapkamı çıkardım, belime astığım havluyu alıp ter içindeki yüzümü sildim. Yanımda gün ışığından sarıya dönmüş gölet... Yüzümü göle dönüp sırtımı ağacın gövdesine yasladım. Birden üzerime bir uyku çöktü, ağacın gölgesinde çimenlere uzandım ve şapkamı yüzüme kapattım. Sırt çantamı başımın altına koyup yastık yaptım ve gözlerimi yumdum.

Bu metnin dil ve anlatımıyla ilgili aşağıdakilerden hangisi söylenemez?

- A) Olay örgüsü, mekân ve şahıs unsurlarıyla beraber verilmiştir.
- B) Varlıkların belirgin özellikleri niteleyici ifadelerle güçlendirilerek aktarılmıştır.
- C) Anlatım, birinci kişi ağzından yapılmış ve genelde kısa cümleler kullanılmıştır.
- D) Bir varlık, zayıf olduğu herhangi bir yönden güçlü olan başka bir varlığa benzetilmiştir.

2.

Blog; video, yazı, resim, içerik vb. bağlantıların güncel olarak genel ağ üzerinden paylaşıldığı kişisel sayfalardır. Bloglar, belirli bir konu etrafında şekillenebileceği gibi çeşitli konuları da bir araya getirebilir.

Buna göre kitaplar ilgili bir blogda aşağıdakilerden hangisinin yer alması beklenemez?

- A) En çok satan kitaplar listesi
- B) Vizyona giren filmler ve konuları
- C) Yeni çıkan kitaplar ve yazarlarının tanıtımı
- D) Blog yazarının okuduklarıyla ilgili izlenimleri

3.

Küçük harflerle yapılan kısaltmalara getirilen eklerde kelimenin okunuşu esas alınır. Büyük harfle yapılan kısaltmalara getirilen eklerde ise kısaltmanın son harfinin okunuşu esas alınır.

Buna göre aşağıdaki cümlelerin hangisinde yazım yanlışı vardır?

- A) Köy yollarında 1 m'yi aşan kar, ulaşımı olumsuz etkiledi.
- B) Mezun olduktan sonra ASELSAN'a iş başvurusunda bulundu.
- C) Yeni düzenleme sonrası THY'na ait gişelerde düzenlemeler yapıldı.
- D) Taksi bulamayınca küçücük çocukla yağmurda 30 dk.yı aşkın yürümüşler.

4. **Aşağıdaki cümlelerin hangisinde kip (anlam) kayması vardır?**

- A) Çoğu insan gibi o da tarlalarda çalışarak geçimini sağlamış.
- B) En sevdiğim romanlardan biri olan İnce Memed'i tekrar okuyorum.
- C) Vatanda esen bu güzel rüzgârın havasını maalesef birçoğu anlayamadı.
- D) Mustafa Kemal Atatürk, Türk halkını yönetime katmak için bu sistemi kurar.

5.

İnsanlar gözüyle görür, kalbiyle anlar. Göz, çoğu bilginin kaynağıdır bizlere göre. Bu yüzden sadece eşya, doğa veya vücudumuzla ilgili şeylerde kullanılmamıştır. Bir durumu ifade etmek için de kullanıldığı olmuştur. Örneğin bazı insanlar için "gözü kara" deriz.

Bu parçadaki altı çizili deyimle hangi özellik vurgulanmıştır?

- A) Açgözlülük B) Sabırsızlık C) Cesaret D) Hoşgörü

6.

Üslup bildiren cümlelerde yazarın "nasıl anlattığı" ifade edilir. "Anlatım nasıldır?" sorusuna cevap verenler üslupla ilgili cümlelerdir.

Buna göre aşağıdakilerden hangisi "üslup" cümlesidir?

- A) Yazar, küçük bir şehirde yaşayan sıradan insanları anlatmış.
 B) Eski zamanların güzelliklerinin anlatıldığı bu roman çok ilgi gördü.
 C) Son şiirinde alışılmış imgeleri kapalı fakat akıcı bir şekilde ifade etmiştir.
 D) "Ateşten Gömlek", Kurtuluş Savaşı yıllarında yaralanan bir askerin anılarına yer veriyor.

7.

Deniz ve mehtap sordular seni,
 Neredesin?
 Nasıl derim terk etti?
 Bırakıp beni gitti,
 Anladılar ki aşkımız bitti.

Bu dizelerde kullanılan söz sanatları aşağıdakilerin hangisinde doğru verilmiştir?

- A) Abartma -Benzetme B) Kişileştirme-Konuşurma
 C) Benzetme-Kişileştirme D) Konuşurma-Abartma

8.

- Bir durumdan duyulan rahatsızlığın kırmadan, tatlılıkla kişinin kendisine ifade edildiği cümlelere "sitem cümlesi" denir.
- Yapılan bir şeyden duyulan üzüntü duygusunu barından cümlelere "pişmanlık cümlesi" denir.
- Bir durum ile ilgili tasalanma duygusunu veren cümlelere "endişe cümlesi" denir.

Buna göre aşağıdakilerin hangisinde verilen cümlelerden herhangi birinin örneği yoktur?

- A) Ayakkabının ve kıyafetinin rengi sana çok yakışmış.
 B) Tatil dönüşü herkese hediye almış da beni unutmuşsun.
 C) Keşke arabayı bu şehirden almasaydım, belki daha iyi olurdu.
 D) Ütünün fişini çekmeyi unutup evden çıkacağım diye çok korkuyorum.



9.

Benim işim gücüm kendimi incelemek: Yapacak başka işim yok zaten. Bakıyorum da öyle çürük taraflarım var ki söylemeye zor varıyor dilim. Sağlam oturaklı neyim var? Her an sendeleyip düşebilirim. Gözlerim bir şöyle görüyor bir böyle. Açken başka adamım, yemekten sonra başka. Keyfim yerindeyse, hava da güzelse kötü kişi değilim. Ama bir nasır canımı yakmaya görsün; asık suratlı, aksi, yanına yaklaşılmaz bir adam olurum. Aynı atın yürüyüşü bir rahat gelir bana bir rahatsız; aynı yolu bir uzun bulurum bir kısa, aynı biçim bir hoşuma gider, bir zıddıma. Bir gün her işe yatkınım bir başka gün hiçbir şey gelmez elimden. Bugün sevdiğim şeye yarın üzülebiliyorum. İçimde durmadan değişen, ele avuca sığmayan bir sürü duygu... Kara kara düşünceler, derken bir öfke; ağlamaklı bir hâldeyken birdenbire taşkın bir sevinç...

Bu şekilde düşünen birinin aşağıdakilerden hangisini söylemesi beklenemez?

- A) Kendimle vakit geçirmek benim en büyük uğraşımdır. Huzuru sadece yalnızlıkta buluyorum.
- B) Sürekli değişen bir ruh hâline sahibim, bu yüzden etrafımda fazla arkadaşım olmuyor. Olan da gidiveriyor
- C) Her şeyin ekseninde ben varım. Ben mutluyum etrafıma mutluluk, mutsuzsam etrafıma da mutsuzluk saçırım.
- D) Çok sevdiğim özelliklerim olsa da bir o kadar da sevmediğim özelliklerim vardır ancak kendimi eleştirmeyi pek beceremem.

10. Aşağıdaki cümlelerden hangisinin anlam özelliği yay ayraç içinde doğru verilmiştir?

- A) Bu sene yaz, beklenildiğinden sıcak geçebilir. (Varsayım)
- B) Takımımız bu yıl daha iyi transferler yaptı. (Karşılaştırma)
- C) Karadeniz Bölgesi, en fazla yağış alan bölgemizdir. (Tahmin)
- D) Sağlıklı bir yaşam için beslenmeye dikkat etsen iyi olur. (Ön yargı)

11.

BM'ye göre su kaynakları hızla tükenmektedir. Bu yüzyılın ortalarında milyonlarca insanın su kıtlığından etkileneyeceğini düşünen uzmanlar, içme suyu elde etmek için bazı yöntemler geliştirmiştir. Bu yöntemlerden biri de deniz suyundan tuzu arındırma, bu yolla hem tuz elde etme hem de içme suyuna ulaşmaktır. Bu yöntemin olumsuz tarafı olan maliyet, zamanla azaltılabilirse su kaynaklarının verimli kullanılması açısından çok ciddi bir adım atılacak ve doğadaki yer altı kaynakları korunacaktır.

Fosil yakıtların kullanımını azaltmak amacıyla ona alternatif olarak geliştirilen hidrojen yakıtlar, kirlilik içermeyen enerji kaynaklarıdır. Hidrojen ve oksijen birleşerek kimyasal tepkime sonucu suyu oluşturur. Bu tepkime sürecinde elektrik üretimi gerçekleşir. Bu yolla oluşan enerjinin yakıt olarak kullanılması bize "temiz" yakıtın sinyallerini vermektedir. Tabiatın kirlenmesini ve fosil yakıt kaynaklarının tüketimini önleyeceği düşünülen bu teknolojinin her alanda kullanılabileceği öngörülmektedir.

Bu metinde bahsedilen teknolojilerin ortak özelliği aşağıdakilerden hangisidir?

- A) Maliyetinin yüksek olması
- B) Otomotiv alanında geliştirilmesi
- C) Çevreyi korumaya yönelik tasarlanması
- D) Su kaynaklarının kullanımını azaltması

12 ve 13. sorular aşağıdaki bilgilere göre cevaplanacaktır.

Ülkemiz deprem kuşağında bulunduğu için devlet kurumları olası deprem riski karşısında bazı önlemler ve planlamalar yapmıştır. Yapılan planlamalar ve önlemlerle ilgili bilgilere bütün vatandaşların internet adresleri aracılığıyla ulaşması sağlanmıştır. Özellikle depremden sonraki ilk altı saatin önemine vurgu yapılırken bu süreçte neler yapılması gerektiği de kurumlar aracılığıyla belirlenmiştir. Deprem ve diğer afetlerden sonraki süreç için toplanma alanları belirlenmiş, her vatandaşın ikamet ettiği yere göre bu alandan haberdar olması ve oraya ulaşması hedeflenmiştir. Kişilerin kendilerine en yakın toplanma alanını öğrenmeleri "turkiye.gov.tr" adresi üzerinden mümkün olmaktadır. Bir kişinin afetler sonrası toplanma alanını "turkiye.gov.tr" adresi üzerinden öğrenebilmesi ile ilgili şunlar bilinmektedir:

- Afet ve acil durum yönetim başkanlığına "turkiye.gov.tr" adresindeki "Kurumlar" sekmesinden ulaşılmaktadır.
- Toplanma alanının sorgulanması e-devlet üzerinden yapılan bir hizmettir.
- Toplanma alanının harita üzerinden gösterilmesi için il, ilçe, mahalle vb. bilgilerin girilmesi gerekmektedir.
- Adresle ilgili gerekli bilgiler olmadan "Sorgulama" sekmesi etkin olmamaktadır.

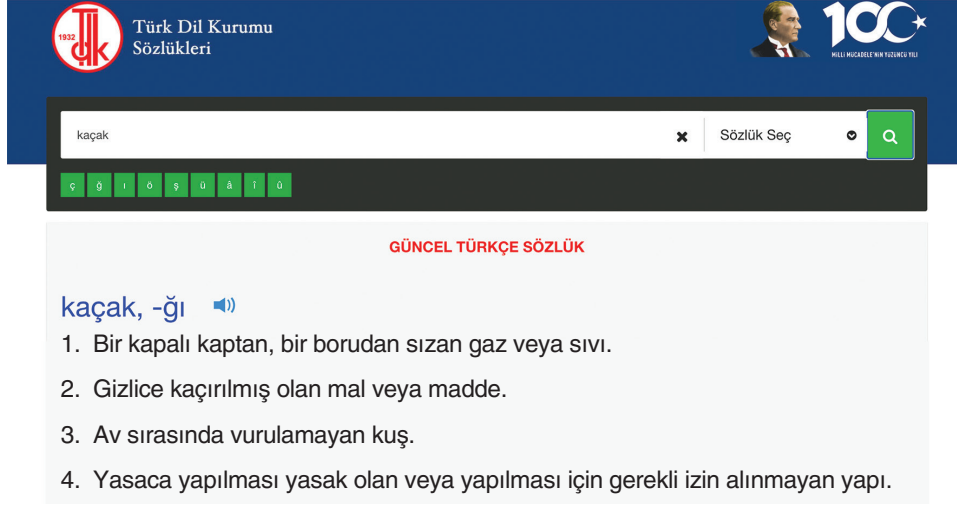
12. Bu bilgilere göre afet ve acil durum toplanma alanını öğrenmek isteyen biri aşağıdaki adımlardan hangisini izlemiş olabilir?

A)	İnternet tarayıcısından "turkiye.gov.tr" adresini gir.	→	"Kurumlar" sekmesinden "Afet ve Acil Durum Yönetim Başkanlığı"nı seç.	→	Soldaki "e-devlet kapısı üzerinden alınan hizmetler" başlığını bul.	→	"Afet ve acil durum toplanma alanını sorgulamayı" tıkla.	→	Çıkan ekranda il, ilçe, mahalle bilgisini gir.	→	En alttaki "sorgula" butonuna bas.
B)	İnternet tarayıcısından "turkiye.gov.tr" adresini gir.	→	"Bakanlıklar" sekmesinden "Afet ve Acil Durum Yönetim Başkanlığı"nı seç.	→	Soldaki "e-devlet kapısı üzerinden alınan hizmetler" başlığını bul.	→	"Afet ve acil durum toplanma alanını sorgulamayı" tıkla.	→	Çıkan ekranın en altına gel.	→	En alttaki "sorgula" butonuna bas.
C)	İnternet tarayıcısından "turkiye.gov.tr" adresini gir.	→	"Bakanlıklar" sekmesinden "Deprem Önlem ve Yardımlaşma Başkanlığı"nı seç.	→	Soldaki "kurumlar" başlığını bul.	→	"Afet ve acil durum toplanma alanını sorgulamayı" tıkla.	→	Çıkan ekranda il, ilçe, mahalle bilgisini gir.	→	En alttaki "sorgula" butonuna bas.
D)	İnternet tarayıcısından "turkiye.gov.tr" adresini gir.	→	"Kurumlar" sekmesinden "Afet ve Acil Durum Yönetim Başkanlığı"nı seç.	→	Soldaki "kurumlar" başlığını bul.	→	"Afet ve acil durumda yapılacakları sorgulamayı" tıkla.	→	Çıkan ekranın en altına gel.	→	En alttaki "sorgula" butonuna bas.

13. Bu metne göre aşağıdakilerden hangisi söylenemez?

- A) Deprem olması ihtimaline karşı devlet tarafından önlemler alınmıştır.
- B) Afetlerin gerçekleşmesinden sonraki ilk saatlerde neler yapacağımız çok önemlidir.
- C) Tüm vatandaşlar istemeleri hâlinde internet üzerinden toplanma alanlarının bilgisine ulaşabilir.
- D) Afet ve acil durumlarda kullanılacak toplanma alanları tüm vatandaşların ulaşabileceği tek bir yer olarak belirlenmiştir.

14. Bir sözcüğün farklı anlamlarına TDK'nin resmi sitesi olan www.tdk.gov.tr adresindeki "Güncel Türkçe Sözlük" bölümünden ulaşabilir. "Kaçak" sözcüğünün "Güncel Türkçe Sözlük"te verilen anlamları şöyledir:



The screenshot shows the TDK website interface. At the top, there is a logo for the Turkish Language Association (TDK) and the text "Türk Dil Kurumu Sözlükleri". To the right, there is a portrait of Mustafa Kemal Atatürk and the "100" anniversary logo. Below the header, there is a search bar with the word "kaçak" entered. To the right of the search bar, there is a dropdown menu labeled "Sözlük Seç" and a search icon. Below the search bar, there is a navigation bar with letters "ç ü i ö ş ü ä t ö". The main content area is titled "GÜNCEL TÜRKÇE SÖZLÜK" and displays the definition of "kaçak, -ğı" with a speaker icon. The definition lists four meanings:

1. Bir kapalı kaptan, bir borudan sızan gaz veya sıvı.
2. Gizlice kaçırılmış olan mal veya madde.
3. Av sırasında vurulamayan kuş.
4. Yasaca yapılması yasak olan veya yapılması için gerekli izin alınmayan yapı.

Buna göre aşağıdaki cümlelerin hangisinde "kaçak" sözcüğü verilen anlamlarından herhangi biriyle kullanılmamıştır?

- A) Savaş yıllarında ailesi ile Almanya'da kaçak yaşadı.
 B) Polis, yurda kaçak mal sokan bir şebekeyi daha yakaladı.
 C) Binada, ekiplerce gaz kaçağı tespit edilince komşular tedirgin oldu.
 D) Birçok kentte kaçak bina yapımına belediyeler çok sert tepki gösteriyor.
15. Aşağıdaki cümlelerde geçen altı çizili ifadelerden hangisi cümleye sebep anlamı katmıştır?
- A) Bir yandan yazı yazıyor, diğer taraftan yemek yapıyor; kısacası her şeye yetişiyordu.
 B) Bazı hayvan türleri koruma altına alındı, böylece bu hayvanların soylarının tükenme tehlikesi ortadan kalktı.
 C) Çok para harcamaktan korkup birikim yapmak istiyor, bununla birlikte yeni kıyafetler almak için can atıyordu.
 D) Avustralya'ya geldiğimden beri doğru düzgün bir kanguru görememişim lakin karşıma kangurularla dolu bir yer çıktı.

16.

Güzel bir şey varsa etrafta
 Emekle yoğrulmuştur mutlaka
 Alın terinin ışıltısı
 Karışmıştır hamuruna
 Sen de parlamak istiyorsan gururla
 Her işine sarıl canla başla

Bu dörtlükte aşağıdakilerden hangisinin önemi vurgulanmaktadır?

- A) Hoşgörü B) Dostluk C) Adalet D) Çalışkanlık

17. Türkiye'deki UNESCO Dünya Miras Listesi'nde bulunan eserlerle ilgili yapılan bir araştırma sonucu elde edilen bilgiler, ilintili görsellerle birlikte sunulacaktır. Sunumda kullanılan görsellerin altında verilen bilgiler doğrultusunda açıklamalar yer alacaktır. Araştırma sonucu hazırlanan sunumun bilgi kısmı şöyledir:

“

Sivas'ın Divriği ilçesinde bulunan Divriği Ulu Cami ve Darüşşifası, 1228-1229 yılları arasında Mengüceklî Beyi Ahmet Şah ve eşi Turan Melek tarafından yapılan tarihî cami ve hastanedir. Yapı, mimari özelliği ve taş işçiliğinin yanında Darüşşifa'nın işleyişi açısından da önemli bir yere sahiptir. Dıştan yalın görünen bu yapının dört adet taç kapısı bulunmakta, bu kapılar eşsiz oyma ve bezemelerle dikkat çekmektedir. Özellikle Darüşşifa Taç Kapısı'nın üzerinde Selçuklu'yu simgeleyen beşgen ve sekizgen yıldız motifi, bir çemberle çevrilmiş hâlde yer almaktadır. Ayrıca Darüşşifanın iç mekânı oldukça ilginç bir sisteme sahiptir. Mekânın ortasındaki havuz ve havuzun akışı sırasında çıkardığı su sesinin hastalıkları iyileştirmede etkili olduğu düşünülmektedir. Caminin giriş kapısı ise ikinci güneşle Kur'an okuyan bir adam gölgesi oluşacak kadar özenli konumlandırılmıştır.

”

Buna göre sunumda kullanılacak aşağıdaki görsellerin hangisinde açıklama yanlış verilmiştir?

A)



İkinci vakti kapı görünümü

B)




Taç kapılar ve süslemeleri

C)



Darüşşifa taç kapı üstü süslemesi

D)



Darüşşifa iç mekân

18. Ülkemizde tiyatro, diğer ülkelerde olduğu gibi çok fazla seyirciye ulaşmak isteği içindedir. Ancak bir oyun sahneye koyulurken dert edildiği tek nokta çok fazla seyirciye ulaşmak, sadece popüler olmaksızın tiyatronun asıl eleştirmenleri olan demirbaş izleyicisi bunu reddedecektir. Kapalı gişe de oynasa, haftalarca o oyuna gitmek için bilet bulunmasa da tiyatronun sadık izleyicisi o oyunu hemen dışlayacaktır. Demirbaş olan oyuncu, bir oyunu demirbaş oyun listesinde tutmak için sayılan ederlerle değil sayılmayan değerlerle verir kararlarını.

Bu metindeki altı çizili sözle anlatılmak istenen aşağıdakilerden hangisidir?

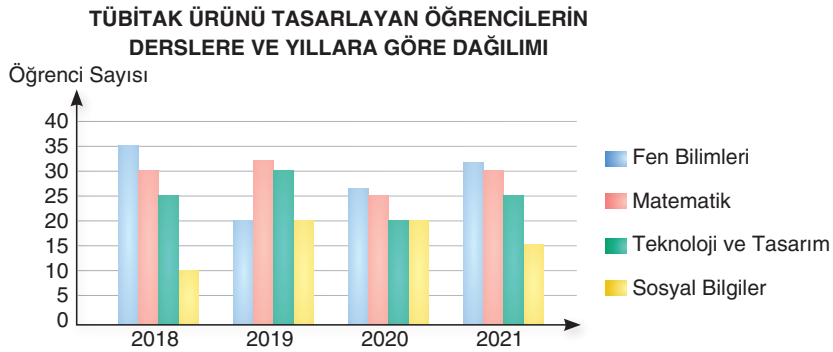
- A) Tiyatronun yetkinliği, izleyicinin sayısı ile değil oyunun kalitesiyle ölçülür.
 B) Maddi kaygılarla ortaya konan sanat eserleri izleyici sayısında istediği noktaya ulaşır.
 C) İzleyici sayısı çok olan tiyatro oyunlarında eleştirmenlerin bakış açılarına ters düşmemek gerekir.
 D) Bazı izleyiciler kendi düşünce ve duygularını yansıtmayan tiyatro eserlerine olumlu bakış açısı geliştirmez.

19. Bir dile buluş, göç, kültürel etkileşim gibi yollarla birçok yeni yabancı sözcük girebilir. Dilimize giren bu yabancı sözcüklerin Türkçe karşılıkları varsa Türkçesini kullanmak, dile sahip çıkan her bireyin sorumluluğudur.

Aşağıdakilerin hangisinde savunulan bu düşünceye uygun cümleler kullanılmıştır?

- A) Gruplar hâlinde yapacağınız bu çalışmada koordinasyonunuzu bozmamaya dikkat etmelisiniz.
 B) Binanın yalıtım sistemi için gerekli olan malzemeler yönetici tarafından temin edilip size verilecektir.
 C) Yeni jenerasyonun en büyük eksikliği maalesef ki zamanı etkili kullanma becerisinden yoksun olmasıdır.
 D) Kara kalem resim çalışması için ihtiyacınız olanlar: kara kalem, silgi, resmini çizmek istediğiniz objeler ve kâğıt.

20.



Yukarıda verilen grafikte bir ortaokulun dört yılda TÜBİTAK Bilim Fuarı için dört farklı dersten ürün tasarlayan öğrenci sayıları verilmiştir.

Verilenlerden hareketle aşağıdaki çıkarımların hangisi yapılamaz?

- A) 2018 ve 2021 yıllarında iki farklı dersten ürün tasarlayan öğrenci sayısı eşittir.
 B) Fen bilimleri dersinden ürün tasarlayan öğrenci sayısı yıllar geçtikçe düzenli olarak azalmıştır.
 C) 2019 yılında fen bilimleri dersinden ürün tasarlayanların dışında diğer derslerden ürün tasarlayanların sayısı 2018'e göre artmıştır.
 D) Sosyal bilgiler dersinden ürün tasarlayan öğrenci sayısı, hiçbir yılda teknoloji ve tasarım dersinden ürün tasarlayan öğrenci sayısından fazla olmamıştır.