

SOSYAL BİLGİLER

DOĞRU SAYISI

YANLIŞ SAYISI

KONU ADI

Birlikte Yaşamak • Evimiz Dünya • Ortak Mirasımız
(1, 2 ve 3. Öğrenme Alanlarını Kapsamaktadır.)



Okut/İndir

Ad Soyad :

Öğrenci No

0	1	2	3	4
5	6	7	8	9
0	1	2	3	4
5	6	7	8	9
0	1	2	3	4
5	6	7	8	9
0	1	2	3	4
5	6	7	8	9
0	1	2	3	4
5	6	7	8	9

1	A	B	C	D
2	A	B	C	D
3	A	B	C	D
4	A	B	C	D
5	A	B	C	D
6	A	B	C	D
7	A	B	C	D
8	A	B	C	D
9	A	B	C	D
10	A	B	C	D

Optik No : 2011

FERNUS

MOD FRO

1.

BUMERANG YÖRESEL HALK OYUNLARI KURSU

Kursumuzda yer verdiğimiz yöresel halk oyunlarımız şunlardır:

- **Horon:** Orta ve Doğu Karadeniz Bölgesi'nde oynanan yüksek tempolu bir halk dansıdır. Daha çok tulum ve kemençe eşliğinde oynanır. Karadeniz düğünlerinde önemli bir yere sahiptir.
- **Halay:** Doğu Anadolu, Güneydoğu Anadolu ve İç Anadolu Bölgelerinde oynanan halk oyunlarının genel ismidir. Davul ve zurna ile çalınan müzikler eşliğinde oynanır.
- **Zeybek:** Ege Bölgesi'nde oynanan halk oyunudur. Tek kişi tarafından ya da birkaç oyuncunun çember şeklinde dizilmesiyle, ağır hareketlerle oynanır. Müziklerinde genellikle davul ve zurna kullanılır.
- **Kaşık:** Dansçıların ellerinde kaşıkla ritim tutarak dans ettikleri yöresel bir dans türüdür. İç Anadolu Bölgesi'nde yoğun olarak oynanmaktadır.

Verilen halk oyunları afişine göre aşağıdakilerden hangisi söylenemez?

- A) Karadeniz Bölgesi'nin halk oyunu, Ege'ye göre daha hareketlidir.
- B) Farklı halk oyunlarında benzer çalgı aletleri kullanılmaktadır.
- C) Farklı bölgelerde aynı halk oyunları görülebilmektedir.
- D) Halk oyunları en önemli kültürel etkinliktir.



2. Bir grup içerisinde bireylerin üstlenmiş olduğu görevlere rol denir. Diğer bir ifade ile üyesi olduğumuz grup içerisinde olan görevlerimiz şeklinde söylenebilir.

Buna göre aşağıdakilerden hangisi aile içindeki rollere örnek olarak gösterilemez?

- A) Bartu Kağan'ın kardeşi Uğur Alp doğduğunda ağabey olması
B) Yasemin'in Atatürk Ortaokulu'nda beşinci sınıfa başlaması
C) Esra Hanım ile Zafer Bey'in evlenerek birbirine eş olması
D) Öğretmen Dilşah Hanım'ın evde kızı ile oyun oynaması

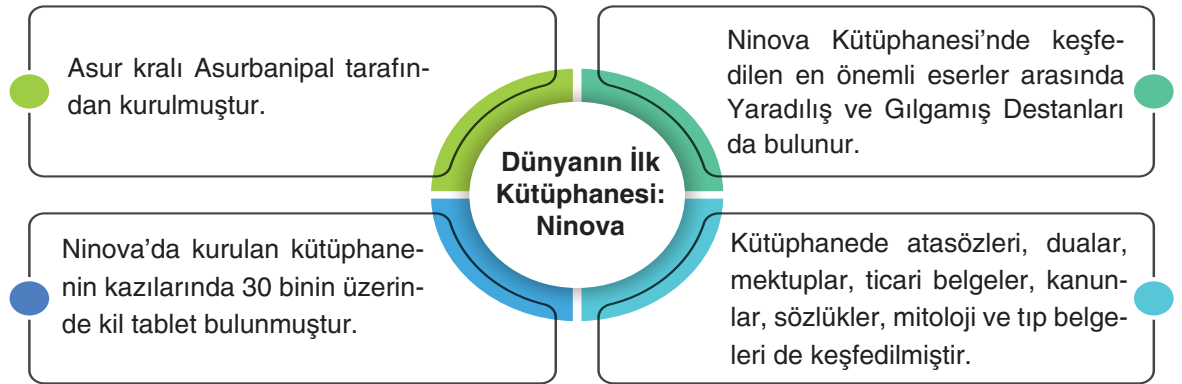
3. Aşağıda Anadolu ve Mezopotamya Medeniyetleri ile ilgili bazı bilgiler verilmiştir.

Hititler	İlk yazılı anlaşma olan Kadeş Antlaşması'nı Mısırlılar ile imzalamışlardır. Ayrıca yazıyı Anadolu'da kullanan ilk medeniyettir. Bu olay sonucunda Anadolu'da tarihî çağlar başlamıştır.
Lidyalılar	Parayı bularak ticaretin gelişmesini ve hızlanmasını sağlamışlardır. Kral Yolu'nun bir kısmını inşa ederek Mezopotamya ile ticaret yapmışlardır.
Urartular	Şamran adını verdikleri sulama kanallarını yaparak tarımda sulama için önemli bir adım atmışlardır.
Frigler	Tarıma önem vermişler, hayvanları konuşuran hikâyeler yazmışlardır. Yani ilk fabl örneklerini oluşturmuşlardır.
İyonlar	Fenikelilerden aldıkları alfabeyi geliştirerek Latin alfabesinin gelişimine katkı sağlamışlardır.

Bu tabloda aşağıdakilerden hangisi hakkında bilgi verilmemiştir?

- A) İnsanlık tarihine katkı sağladıkları alanlara
B) İlk fabl örneklerinin isimlerinin ne olduğuna
C) Anadolu'da tarihî çağları başlatan medeniyete
D) Alfabenin gelişimine katkı sağlayan uygarlıklara

- 4.



Verilen bilgilere göre aşağıdakilerden hangisine ulaşamaz?

- A) Eserlerin günümüze kadar ulaşmadığı
B) Geçmişte edebî eserlere önem verildiği
C) Asurluların bilimsel gelişime katkı sağladığı
D) İnsanlık tarihine ilişkin önemli belgeler bulunduğu

5.

Türkiye Cumhuriyeti, ulusal egemenliğe dayalı bağımsız bir Türk devletidir. Bağımsızlığımızın en büyük simgesi Türk bayrağımızdır. Özel günlerde ve millî bayramlarda Türk yurdunu bayraklarla süsleriz. Törenler başlamadan önce İstiklal Marşı'mızı okuruz. Para birimimiz Türk lirası, başkentimiz ise Ankara'dır. Bu semboller anayasamız tarafından da koruma altına alınmıştır.

Verilen metinde aşağıdaki sembollerden hangisiyle ilgili bilgiye yer verilmemiştir?

- A) Millî marş
B) Para birimi
C) Hukuk yapısı
D) Savunma gücü

6.



Kuzey Marmara Otoyolu ülkemizin en önemli karayolu yatırımları arasındadır. Şehirler arası ve uluslararası trafiği birbirinden ayırarak ulaşım hizmetlerindeki kalitenin artmasını sağlamıştır. Kara ulaşımı ve nakliye araçlarına kesintisiz, emniyetli ve konforlu geçiş imkânı sunmuştur. Trafik sorununun çözüme büyük katkısı olmuştur.

Buna göre aşağıdakilerden hangisi Kuzey Marmara Otoyolu ile ilişkilendirilemez?

- A) Ulaşım kalitesinin artmasını sağlar.
B) Doğal çevrenin değişmesinde etkilidir.
C) Köprülerin inşa sürecini hızlandırmıştır.
D) Güzergâhı farklı şehirlerden geçmektedir.

7. Göreceli konum özelliklerinde "Ülkenin iç kesimlerinde yer alır, yer altı kaynakları bakımından zengindir, ulaşım hatlarına yakındır, kış turizmi potansiyeli yüksektir ve tarımsal çalışmalara elverişlidir." yazan bir şehirde aşağıdaki çalışma gruplarından hangisinin bulunması beklenemez?

- A) Madenci işçiliği
B) Otel işletmeciliği
C) Çiftçilik
D) Balıkçılık



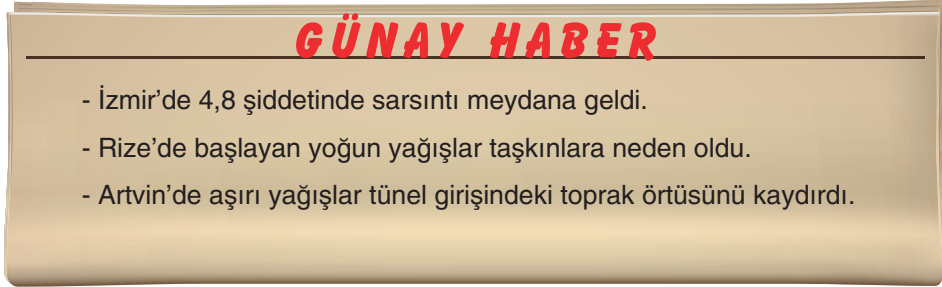
8.

Ülkemiz kültürel çeşitlilik bakımından oldukça zengin bir coğrafyadır. UNESCO Somut Olmayan Kültürel Miras Listesi'ne Türkiye'den dört kültürel miras daha eklenmiştir. Böylece Türkiye bu listeye en çok miras kaydettiren ikinci ülke olmuştur. Sahip olduğumuz bu değerler ülkemizin kültür hazinesini oluşturur. Bu nedenle bu miras korunmalı, hazinemize zarar verenler uyarılmalıdır.

Verilen metne göre Türkiye'nin sahip olduğu özellik aşağıdakilerden hangisidir?

- A) Doğal güzellikleri önemseyen çeşitli politikalar üretmektedir.
 B) Kültürel değerler ve ortak miras bakımından zengin bir coğrafyadır.
 C) Kültür hazinelerinin korunması için yapılan çalışmaları planlamaktadır.
 D) Geçmişten günümüze kalan eserleri en iyi koruyan ikinci ülke konumundadır.

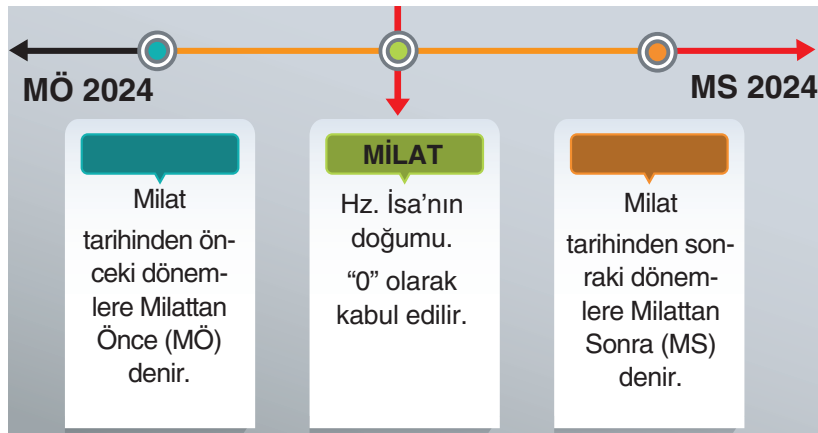
9. Aşağıda bazı haber manşetleri verilmiştir.



Verilen manşetlerde aşağıdaki afetlerden hangisi ile ilgili haber yoktur?

- A) Sel B) Deprem C) Heyelan D) Çığ

10. Tarihsel olayların ya da süreçlerin doğru bir şekilde araştırılabilmesi için belirli dönemlerin veya gelişmelerin temel alınarak oluşturulduğu zaman çizelgesine tarih şeridi adı verilmektedir. Tarih şeridinin temel nitelikleri şu şekildedir:



Bu bilgilere göre aşağıdakilerden hangisi tarih şeridinin tasarlanmasının amaçlarından birisi olamaz?

- A) Olayların gelişimine yön vermek B) Tarihsel süreçleri doğru analiz etmek
 C) Olası karmaşıklığın önüne geçmek D) Yapılacak araştırmaları kolaylaştırmak