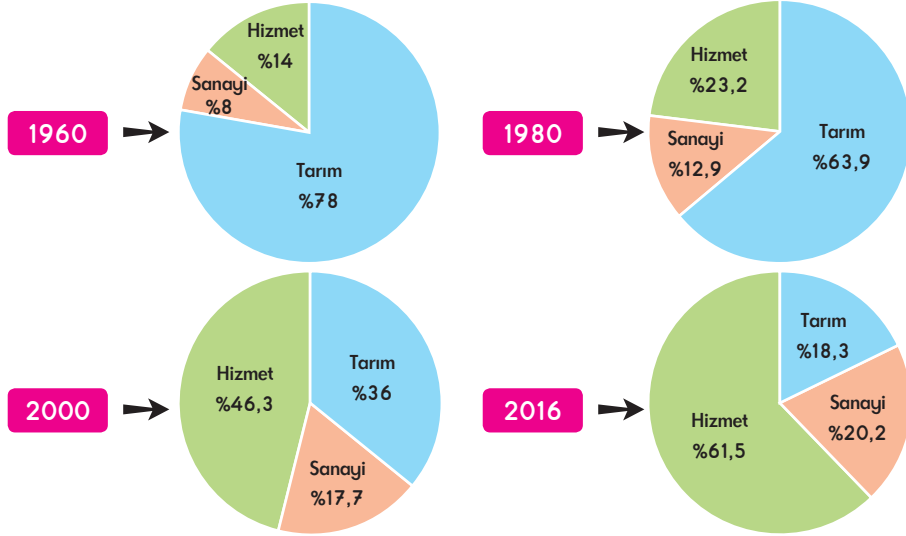


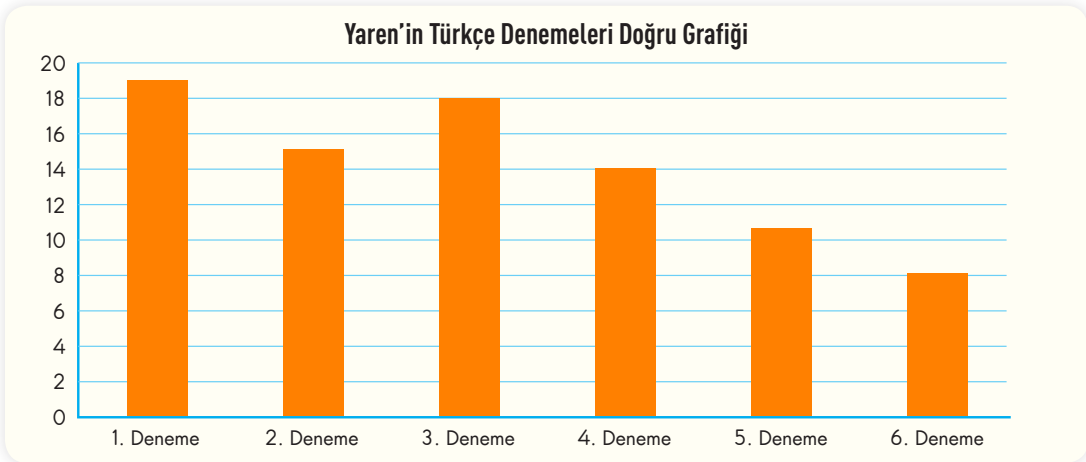
1. Çalışan insanların sektörlere göre dağılımı geçmişten günümüze gelene kadar farklı nedenlerden kaynaklı olarak değişim göstermekte, kimi sektördeki oranlar azalmaktayken kimi sektörlerdeki oranlarda artışlar görülmektedir.



Ülkemizin 1960, 1980, 2000 ve 2016 verilerine göre çalışan nüfusun sektörel dağılımının verildiği bu grafiklerden aşağıdaki yargıların hangisine ulaşamaz?

- A) 1960-2016 yılları arasında tarımda çalışan nüfusun oranı sürekli azalmıştır.  
 B) 1960-2016 yılları arasında hizmet sektöründe çalışanların oranı sürekli artmıştır.  
 C) 2016 yılında sanayi sektöründe çalışan nüfus, tarım sektöründe çalışan nüfusu geçmiştir.  
 D) 1960-2016 yılları arasında tarımsal alanda çalışan nüfusun azalmasında köylerden kentlere olan göç etkili olmuştur.

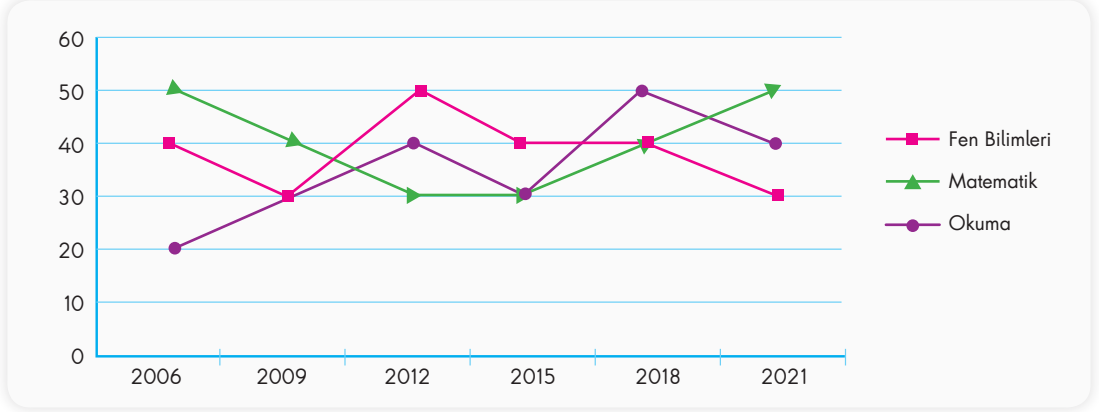
2.



Yaren'in birinci dönem boyunca girdiği altı farklı deneme sınavında Türkçe dersinden cevapladığı doğru sayılarının verildiği bu grafiğe göre aşağıdakilerden hangisi yanlıştır?

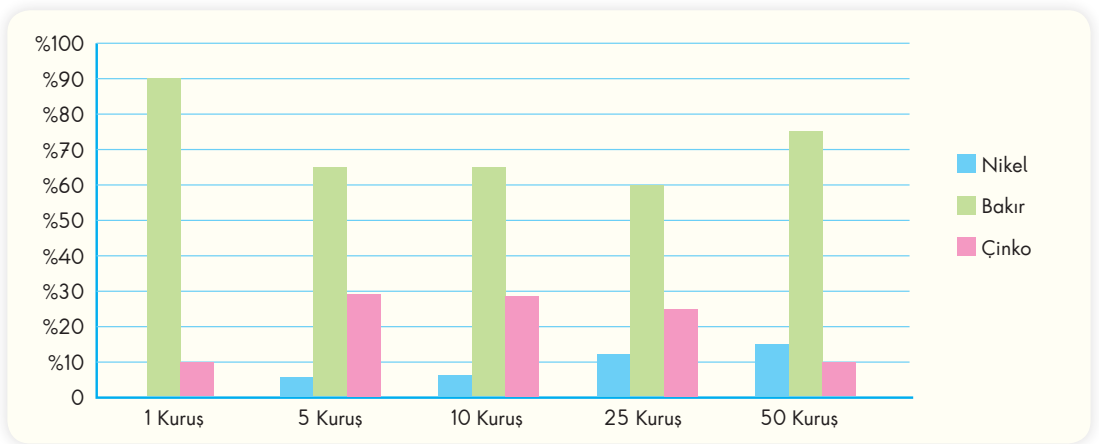
- A) 3. deneme sonrasında Türkçe doğru sayıları sürekli azalmıştır.  
 B) Yaren'in Türkçe denemelerindeki doğru sayısı 10'un altına hiç düşmemiştir.  
 C) Yaren'in 15 ve üzeri sayıda doğrusunun olduğu 3 farklı deneme sınavı vardır.  
 D) Bu sınavlarda Türkçe doğru sayısının en fazla olduğu deneme 1. denemedir.

3. Açılımı "Uluslararası Öğrenci Değerlendirme Programı" olan PISA, Ekonomik İşbirliği ve Kalkınma Örgütü (OECD) tarafından üçer yıllık dönemler hâlinde, 15 yaş grubundaki öğrencilerin kazanmış oldukları bilgi ve becerileri değerlendiren bir araştırmadır. Türkiye'nin son 6 araştırmada fen bilimleri, matematik ve okuma alanlarında elde ettiği sıralamaların grafiği aşağıda verilmiştir.



**Bu verilere göre aşağıdakilerden hangisi söylenemez?**

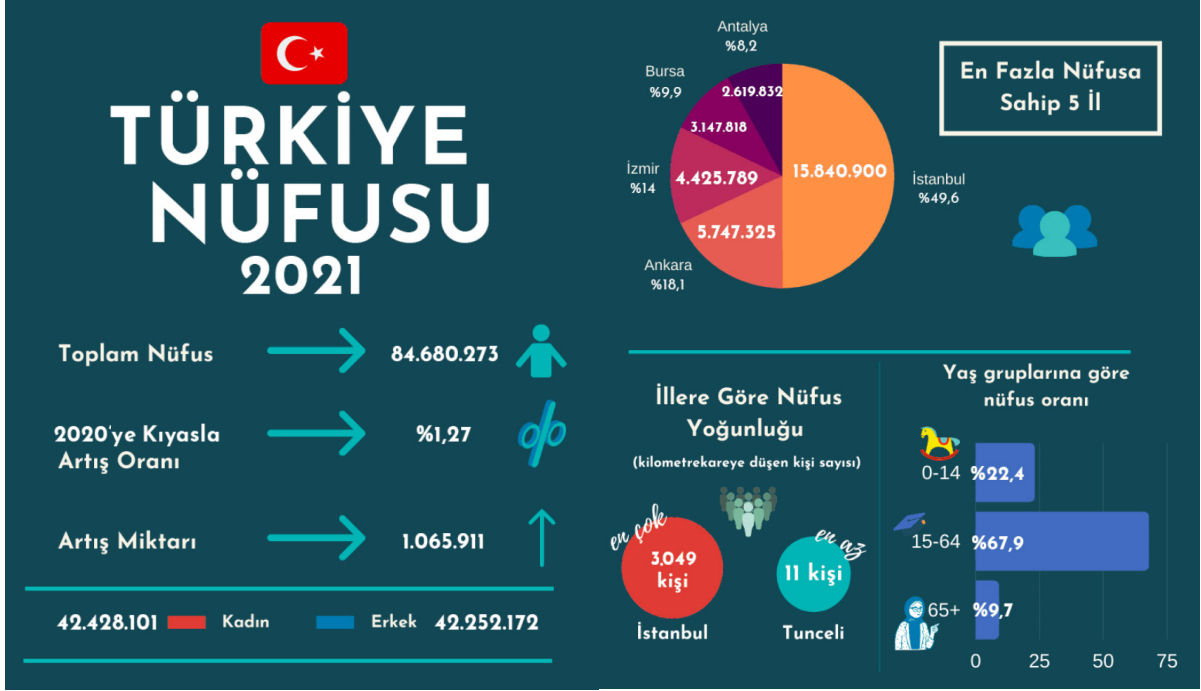
- A) Matematik alanındaki araştırmaların ikisinde aynı sıralama elde edilmiştir.  
B) Okuma alanındaki sıralamalarda yükselip alçalan bir grafik gözlenmiştir.  
C) Fen bilimlerinde sıralama olarak en başarısız yıl 2012'dir.  
D) 2015 yılında tüm alanlardaki sıralama aynıdır.
4. Günümüzde üretilmekte olan madeni paraların ham maddesi; nikel, bakır ve çinko elementleridir. Aşağıda bazı madeni paralarda kullanılan ham madde oranlarına ait bir grafik verilmiştir.



**Bu verilerden hareketle yapılan aşağıdaki çıkarımlardan hangisi doğrudur?**

- A) Bakır oranı en az 5 kuruştadır.  
B) 5 ve 50 kuruştaki çinko oranları aynıdır.  
C) 10 kuruştaki nikel oranı 50 kuruştakinden fazladır.  
D) Ham madde oranları birbirine en yakın madeni para 25 kuruştur.

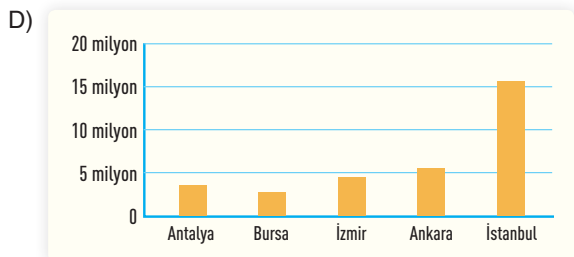
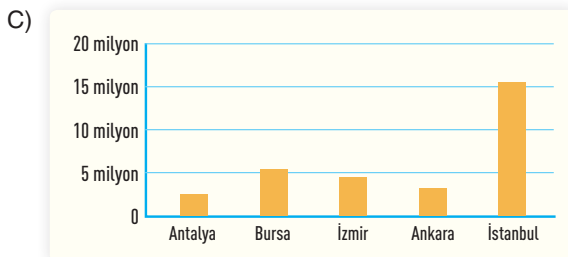
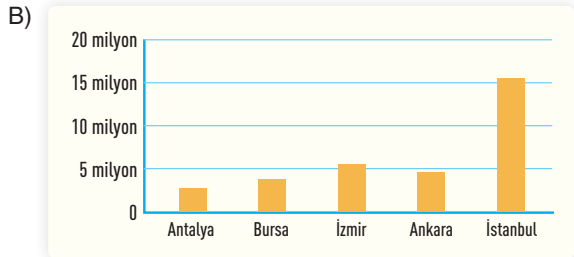
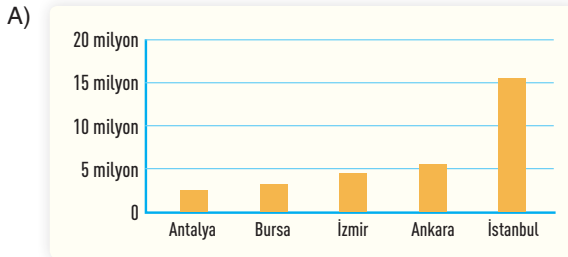
5 ve 6. soruları aşağıda verilen grafiklere göre cevaplayınız.



5. Bu grafiklerle ilgili yapılan aşağıdaki çıkarımlardan hangisi yanlıştır?

- A) Bir önceki yıla göre Türkiye nüfusu %1,27 artış göstermiştir.  
 B) 2021 yılı nüfus verilerine göre erkek nüfusu, kadın nüfusundan fazladır.  
 C) 2021 yılı nüfus verilerine göre Türkiye'nin toplam nüfusu 84 milyonu aşmıştır.  
 D) Yaş gruplarına göre Türkiye nüfusunun %67,9'u, 15-64 yaş arası bireylerden oluşmaktadır.

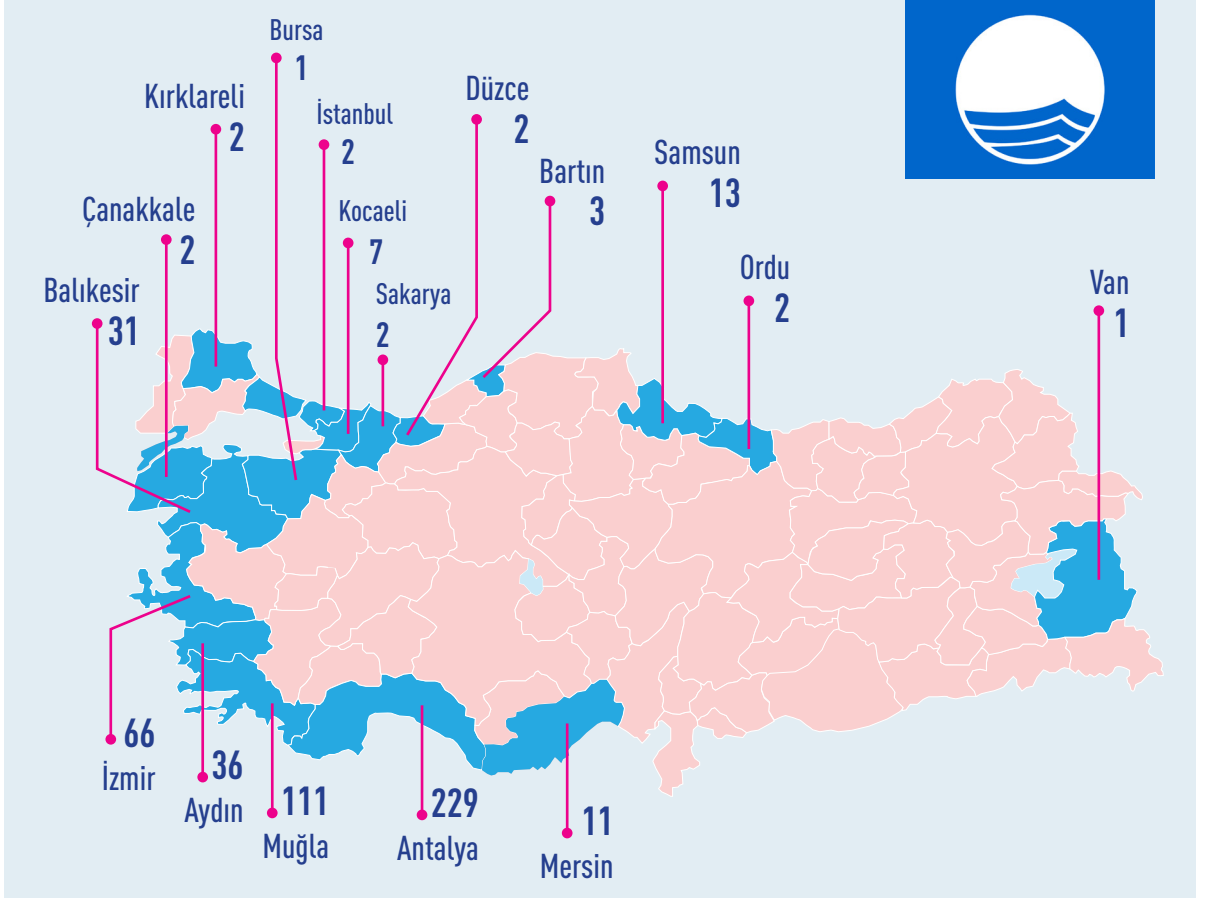
6. Türkiye'nin en fazla nüfusa sahip ilk beş ilinin nüfus sayıları aşağıdakilerin hangisinde doğru verilmiştir?



7.

## Türkiye'nin mavi bayraklı plaj sayısı 531'e ulaştı.

Türkiye, İspanya ve Yunanistan'ın ardından dünyanın en çok mavi bayraklı 3. ülkesi



Ülkemizdeki çeşitli illerimizde yer alan mavi bayraklı plaj sayılarının verildiği bu görsel ile ilgili,

- I. Mavi bayraklı plaj sayısının en fazla olduğu ilimiz Antalya'dır.
- II. Muğla'da yer alan mavi bayraklı plaj sayısı, İzmir ve Aydın'da yer alan mavi bayraklı plaj sayısının toplamından fazladır.
- III. Mavi bayraklı plaj sayısı bakımından ülkemizde son sırada Bursa yer almaktadır.
- IV. Ülkemizin kuzeyinde mavi bayraklı plaj sayısı diğer bölgelerden daha fazladır.

yargılarından hangileri doğrudur?

- A) I ve II.                      B) I ve III.                      C) II ve IV.                      D) III ve IV.