

1. Odanızın sizinle bütünleştiğini hiç düşünmüş müydünüz? Bakın bakalım odanız sizi ne kadar yansıtıyor? Önce büyükçe bir kâğıda renkli kalemler kullanarak hayalinizde canlandırdığınız odayı çizin.

Beyaz perdeler tercih ediyorsanız sakin ve sessiz bir yapınız var demektir ve alıştığınız düzenin bozulmasından hoşlanmıyorsunuzdur. Ancak tercihiniz renkli perdelerden yanaysa enerjik ve hareketli bir yapınız olduğu anlamına gelir, ayrıca yeni şeyler denemekten keyif alıyorsunuzdur. Çizdiğiniz resimde perdeleriniz kapalıysa karamsar bir kişiliğiniz var demektir. Açık perdeler ise hayata her zaman olumlu tarafından baktığınızı, zorlukların sizi pes ettirmediğini gösterir.

Resimlerdeki dolaplar, sorumluluklarınızı anlatır. Çizdiğiniz resimde dolap sayısı fazlaysa sorumluluklarınız çok ve biriken işleriniz var demektir. Zamanınızı iyi yönetmelisiniz.

Resimde sadece tek koltuk çizmeniz; sizin içe dönük bir karakter olduğunuz, işlerinizi tek başına yapmayı tercih ettiğiniz anlamına gelir. Birden fazla koltuk çizmişseniz dışa dönük ve sosyal bir kişiliğiniz var demektir ve ekip çalışmasına yatkınsınızdır.

Resimde tek rengin hâkim olduğu halılar; konuşkan biri olmadığınızı, kalabalıklardan hoşlanmadığınızı ve ayrıca çok iyi sır sakladığınızı gösterir. Eğer çizdiğiniz halı karışık renkli ise konuşmayı çok seven ve şakacı bir yapınız var demektir. Eğlenceli tavırlarınızla arkadaş ortamlarının aranan yüzüsünüzdür.

Ayşen Hanım, bir dergide okuduğu bu yazı üzerine hayalindeki odanın resmini aşağıdaki gibi çizmiştir.



**Buna göre Ayşen Hanım'ın karakteri hakkında aşağıdakilerden hangisi söylenemez?**

- A) Ayşen Hanım'ın eğlenceli, sosyal ve konuşkan bir karakteri vardır.
- B) Yalnızlıktan hoşlanan Ayşen Hanım, işlerini tek başına yapmayı tercih eder.
- C) Ayşen Hanım, biriken işleri nedeniyle zaman yönetimi konusunda sorun yaşamaktadır.
- D) Pozitif bakış açısı sayesinde Ayşen Hanım, başına ne gelirse gelsin umudunu asla yitirmez.

2. Güney Asya bölgesindeki sıcak denizlerde yaşayan balon balığı, yakınlarında bir tehdidin varlığını hissettiği takdirde çene kaslarını pompa gibi kullanmak suretiyle esnek karınlarını bir balon gibi şişirir. Bu tür balıkların karın bölgeleri beyaz renklidir. Yan taraflarında iki adet gümüş renkli şerit bulunan balon balıkları, bu yönleri ile ayırt edilebilmektedir. Vücudunda kuyruğuna kadar dikenler bulunur.

**Bu metinde özellikleri verilen balon balığı aşağıdakilerden hangisidir?**

A)




B)



C)



D)



3. Telli çalgılar çeşitli sebeplerle tellerin titreşerek ses çıkarması sonucu müzik oluşturan enstrümanlara verilen isimdir. Telli çalgılar içinde bulunan viyolonsel, genellikle akustik olarak kullanılan bir enstrümandır. Karşıdan bakıldığında gövdesinin orta bölümünde bulunan ve el yazısı ile f harfini andıran iki ses deliği ve eşik (köprü) olarak adlandırılan bir destek bulunur. Bir diğer telli çalgı kabak kemane; telli, yaylı ve deri kapaklı sazların tek örneğidir. Gövdesi kabak veya Hindistan cevizinden, göğsü deri ile kaplı, iki veya üç telli olan bir halk çalgısıdır. Yine telli çalgılar içinde yer alan yaylı tambur ise bir büyük başı ve ince uzun sap kısmından oluşur. Ses, baş denilen yuvalık ve daireye benzer yapının içinden çıkmaktadır.

**Bu metinde aşağıdaki enstrümanların hangisinden bahsedilmemiştir?**

A)



B)



C)



D)



4. Her milletin kendine göre özel saydığı kıyafetler vardır ve bu kıyafetleri özel günlerde giymeyi tercih ederler. Aşağıda bazı ülkelerin özel günlerde giydiği kıyafetlerle ilgili bilgiler verilmiştir.
- Japon Kimonosu:** Üstündeki motiflerle kültürlerinin özelliklerini gösteren bu kıyafet, üst üste sarılan kumaşlar, bel kısmından "obi" adı verilen geniş bir kuşakla vücuda bağlanır ve renkler ön plana çıkar. Kol kısımları yaklaşık yarım metre genişlikte olan bu kıyafetler oldukça şıktır.
  - Hindistan ve Pakistan Sarisi:** Genel olarak ipekten yapılan, dikilmemiş, 4-8 metre uzunluğunda bir kumaştan oluşur. Sari, birçok farklı şekilde giyilebilir. Genelde kullanılan tarz; kumaş, belin etrafına sarılır ve bir ucu omuz üzerinden getirilerek giyilir.
  - Hawaii MuuMuu:** Rahat, salaş görünümü ve düşük omuzlu bir elbisedir. Hawaii'de halkın düğün, eğlence ve etkinliklerde kendi kültür ve geleneklerini yansıtmak amacıyla giydikleri kıyafetlerinden biridir.

Numaralanmış metinlerde bahsedilen kıyafetler aşağıdakilerin hangisinde sırasıyla verilmiştir?


A)




B)



C)



D)



5. Her bölgenin toprak yapısı ve bitki örtüsü iklim koşullarına bağlı olarak farklılık göstermektedir. Bu farklılıklar orada yetişen sebze meyve çeşitliliğini de beraberinde getirmektedir. Akdeniz Bölgesi'nde turunçgiller, muz, gül ve pamuk yetişirken Güneydoğu Anadolu Bölgesi'nde karpuz, domates ve Antep fıstığı gibi tarım ürünleri yetişmektedir.

Buna göre aşağıdaki görsellerden hangisi diğerlerinden farklı bir bölgede yetişir?

A)



B)



C)



D)



6. Aşağıda bazı hayvanların alt ve üst kısımları numara ve harflerle belirtilecek şekilde karışık olarak verilmiştir.




Bu satır ve sütunlardaki karelerden aşağıdaki hayvanlar oluşturulmuştur.



Buna göre aşağıdaki sayı ve harflerden hangisi bu hayvanlardan birini oluşturmaz?

- A) C2 - D1      B) A3 - B1      C) A1 - B3      D) A2 - D3

7. Aşağıda bir havuç yeme oyunu verilmiştir.



Ahmet, havuç yeme oyunu oynamaktadır. Oyunda belli tuşlarla hareket ederek tavşanın havucu yemesini sağlayacaktır.

Buna göre Ahmet, aşağıdaki tuşlardan hangisini sırasıyla tuşlarsa tavşanın havucu yemesini sağlamış olur?

- A) > v v v v \*    B) > v v v > \*    C) > > ^ ^ ^ \*    D) > v ^ > > \*