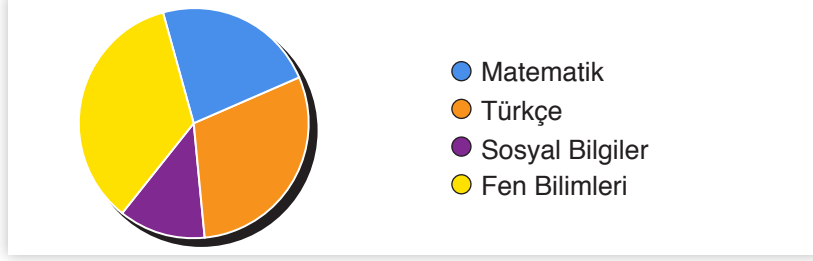


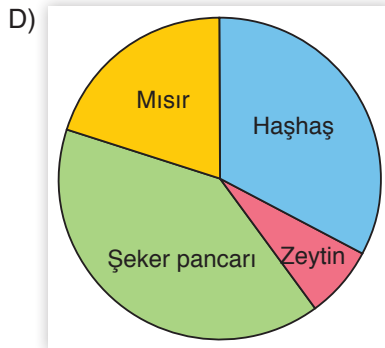
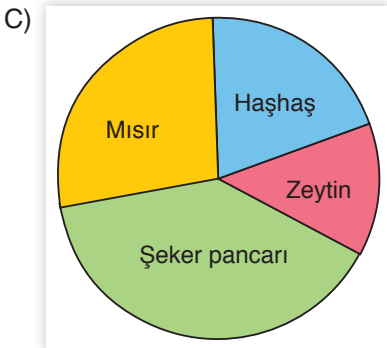

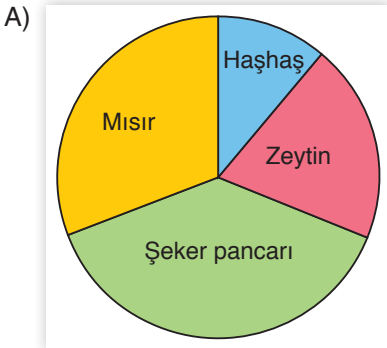
1. Aşağıda bir okuldaki matematik, fen bilimleri, Türkçe ve sosyal bilgiler derslerinden alınan proje ödevi dağılımları verilmiştir.



Bu grafiğe göre aşağıdakilerden hangisi doğrudur?

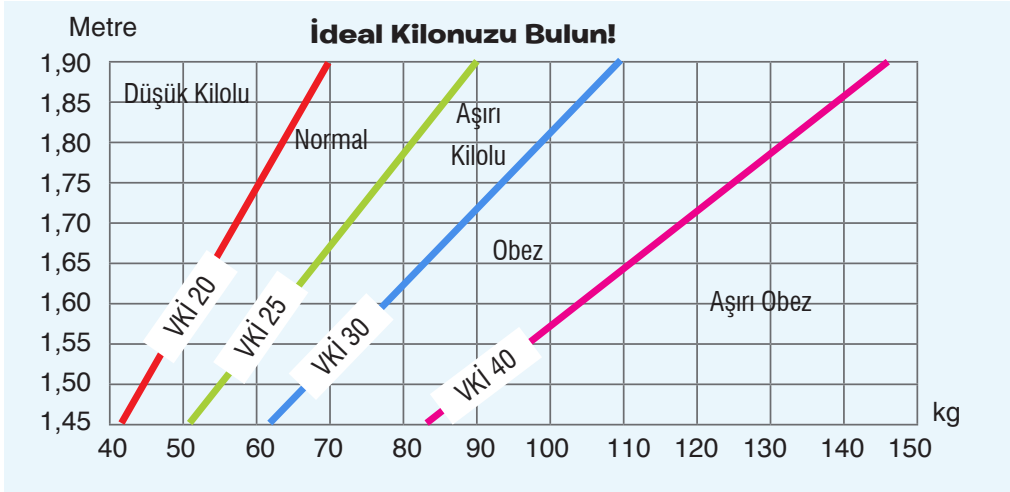
- A) En çok proje ödevi alınan ikinci ders matematiktir.
B) Okulun yarısından fazlası ödevini Türkçe ve matematik dersinden almıştır.
C) Matematik dersinden ödev alanların sayısı, fen bilimlerinden ödev alanlardan fazladır.
D) Ödevin en çok alındığı ders sosyal bilgiler, en az alındığı ders ise fen bilimleridir.
2. Bir bölgede haşhaş, zeytin, şeker pancarı ve mısır yetiştiriciliği yapılmaktadır. Yetiştirilen bu ürünlerle ilgili bilinenler şunlardır:
- Bu bölgede mısır, zeytinden fazla yetiştirilmektedir.
 - En fazla yetiştirilen ürün şeker pancarıdır.
 - Sıralamada haşhaş üretimini takip eden ürün zeytindir.

Buna göre aşağıdakilerden hangisi bu bölgede yetiştirilen ürünlerin grafiği olabilir?



3 ve 4. soruları aşağıdaki bilgilere göre cevaplayınız.





İdeal kilo, sağlıklı bir yaşam sürdürebilmek için boy ile orantılı olan kilo değeridir. Aşağıda görülen "Vücut Kitle İndeksi" tablosunda kilogram cinsinden ağırlık ve metre cinsinden boyun kesiştiği noktanın içinde bulunduğu alan, ilgili kilonun ideal olup olmadığını göstermektedir.



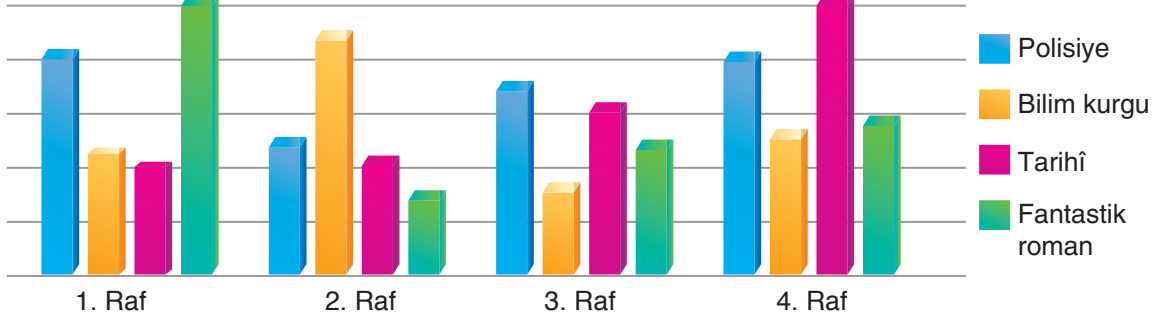
3. Vücut kitle indeksi tablosuna göre aşağıdaki çıkarımlardan hangisi yanlıştır?

- A) 1,60 m uzunluğunda ve 42 kg ağırlığında olan bir birey düşük kiloludur.
- B) Ağırlığı 75-150 kg arasında olan herkes obez kategorisindedir.
- C) Boyu 1,75 m ve 90 kg olan bir birey aşırı kiloludur.
- D) 1,70 m uzunluğunda bir birey için 60-70 kg aralığı idealdir.

4. Aşağıda boy ve kilolarıyla birlikte vücut kitle indeksi sonucuyla ilgili yapılan eşleştirmelerden hangisi doğrudur?

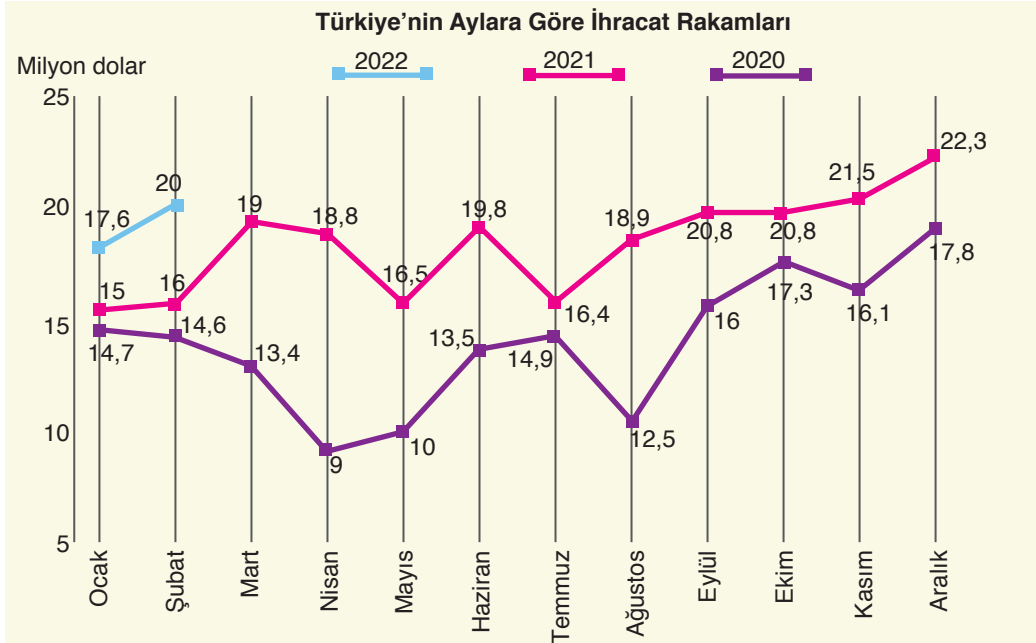
- A) 
Boy: 1,85 m
Kilo: 101 kg
Obez
- B) 
Boy: 1,85 m
Kilo: 60 kg
Normal
- C) 
Boy: 1,50 m
Kilo: 45 kg
Normal
- D) 
Boy: 1,50 m
Kilo: 95 kg
Obez

5. Bir kitaplığa yerleştirilecek olan polisiye, bilim kurgu, tarihî ve fantastik romanların dağılımı aşağıdaki grafikte gösterilmiştir.



Bu grafiğe göre aşağıdakilerden hangisi söylenemez?

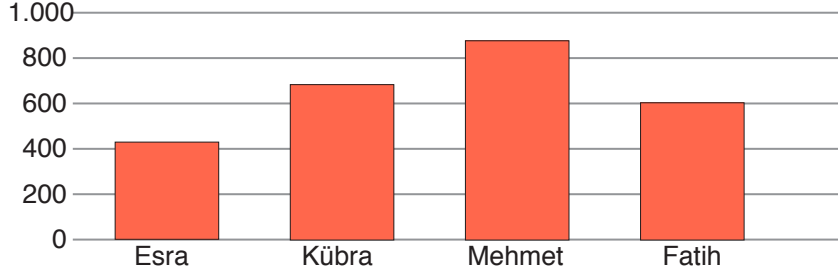
- A) 1. rafa en çok fantastik ve polisiye roman dizilmiştir.
 B) 1 ve 4. rafa polisiye romanlar eşit sayıda dizilmiştir.
 C) Bilim kurgu romanları en çok 2. rafa, en az ise 3. rafa dizilmiştir.
 D) 2. rafta fantastik romanlara tarihî romanlardan daha fazla yer verilmiştir.
6. Ülkede üretilen bir malın döviz karşılığında yabancı bir ülkeye satılmasına "ihracat" denir. Aşağıda Türkiye'nin son 3 yıldaki ihracat gelirlerine ait bir tablo verilmiştir.



Bu tabloya göre aşağıdakilerden hangisi yanlıştır?

- A) 2020 yılında ihracatın en çok yapıldığı ay Aralık ayıdır.
 B) 2021 yılı ihracat değerleri 2020'ye göre her ay daha fazladır.
 C) Ocak ve şubat aylarında en çok ihracat geliri 2022 yılında elde edilmiştir.
 D) 2020 yılında ihracatın azaldığı her ay, 2021 yılında da azalma görülmüştür.

7. Ekim ayında Esra, Kübra, Mehmet ve Fatih adlı dört arkadaşın soru çözme sayıları aşağıdaki grafikte verilmiştir.



Dört arkadaşın kasım ayında çözdüğü soru sayıları ile ilgili bilinenler şunlardır:



Mehmet, ekim ayına göre daha az soru çözmüştür.



Esra, kasım ayında bir sıra yükselmiştir.



Fatih, kasım ayında Kübra'yı geçmiştir.

Buna göre, bu arkadaşların kasım ayı soru çözme grafiği aşağıdakilerin hangisi olabilir?

