

1. Alya, Beril, Celil, Deha ve Emir isimli kişilerin katıldığı okuma yarışması ile ilgili bilgiler aşağıdaki gibidir:

- Deha, okuma yarışmasını ikinci olarak bitirmiştir.
- Celil ve Alya, okuma yarışmasını art arda bitirmiştir.
- Beril, okuma yarışmasını Deha'dan daha geride bitirmiş ama sonuncu olmamıştır.

Bu bilgilere göre aşağıdakilerden hangisi kesinlikle doğrudur?

- A) Emir, okuma yarışmasını üçüncü olarak bitirmiştir.
- B) Beril, okuma yarışmasını üçüncü olarak bitirmiştir.
- C) Alya, okuma yarışmasını birinci olarak bitirmiştir.
- D) Celil, okuma yarışmasını dördüncü olarak bitirmiştir.

2. Ali, Begüm, Ceyda, Davut ve Esin isimli kişilerin okul kantininden aldıkları tostlarla ilgili bilinenler aşağıdaki gibidir:

- Tost için kullanılan malzemeler; sucuk, sos, salam, kaşar ve pastırmadır.
- Tostların her biri, tek bir malzeme ile yapılmaktadır.
- Her biri, sadece bir adet tost almıştır.
- Ali, sucuklu veya soslu tost almamıştır.
- Esin, kaşarlı veya pastırmalı tost almamıştır.
- Ceyda, salamlı tost almıştır.
- Davut, sucuklu tost almıştır.

Bu bilgilere göre aşağıdakilerden hangisi kesinlikle doğrudur?

- A) Begüm, pastırmalı tost almıştır.
- B) Ceyda, kaşarlı tost almıştır.
- C) Ali, pastırmalı tost almıştır.
- D) Esin, soslu tost almıştır.

3. Ayşe, Belgin, Can, Dünya ve Esra isimli kişilere uygulanan bir sınav ile ilgili bilinenler aşağıdaki gibidir:

- Sınav üç sorudan oluşmaktadır ve birinci soru 10, ikinci soru 15 ve üçüncü soru 20 puandır.
- Sadece bir kişi tam puan almıştır.
- Sınava katılan herkes en az bir soruya doğru cevap vermiştir.
- Dünya, en düşük; Can, en yüksek puanı almıştır.
- Üç kişi iki soruya doğru cevap vermiştir.

Bu bilgilere göre aşağıdakilerden hangisi kesinlikle yanlıştır?

- A) Belgin, sınavdan 25 puan almıştır.
- B) Esra, sınavdan 30 puan almıştır.
- C) Dünya, sınavdan 10 puan almıştır.
- D) Ayşe, sınavdan 20 puan almıştır.

4. Mehmet Bey; evlerinde bulunan tableti çocukları Anıl, Bulem, Ceyda ve Davut'a hafta sonu iki gün öğleden önce ve öğleden sonra olmak üzere yarım gün oynama hakkı tanımıştır. Kardeşlerin tabletlerle oynadığı günlerle ve zaman dilimiyle ilgili bilenenler şunlardır:

- Bulem ve Ceyda, tabletle aynı gün oynamaktadır.
- Anıl, tabletle Ceyda ile aynı zaman diliminde ama ondan bir gün önce oynamaktadır.
- Tableti ilk oynama hakkına sahip olan kişi Davut'tur.

Buna göre aşağıdakilerden hangisi doğrudur?

- A) Tabletle son oynayan kişi Bulem'dir.
- B) Davut'tan sonra tabletle oynayan kişi Anıl'dır.
- C) Ceyda, tabletle pazar öğleden önce oynamıştır.
- D) Cumartesi günü tabletle oynayanlardan biri Bulem'dir.

5. Belgesel, dizi, çizgi film, spor ve müzik türündeki televizyon programlarının yayımlandıkları günlerle ilgili bilinenler aşağıdaki gibidir:

- Programlar, sadece hafta içi günlerde yayımlanmaktadır.
- Her gün sadece bir tane program yayımlanmaktadır.
- Spor türündeki televizyon programı, salı veya çarşamba günleri yayımlanmamaktadır.
- Belgesel, dizi ve çizgi film birer gün arayla yayımlanmaktadır.

Bu bilgilere göre,

- I. Belgesel
- II. Müzik
- III. Dizi
- IV. Spor

programlarından hangilerinin yayımlandıkları gün kesin olarak bilinmektedir?

- A) I ve III. B) I ve IV. C) II ve III. D) II ve IV.

6. Aykut, Burçin, Cüneyt, Doruk, Emir isimli kişiler, beş katlı bir apartmanda sağ ve sol tarafta yer alan asansörleri kullanacaklardır. Bu asansörler ve asansörleri kullanan kişilerle ilgili bilinenler aşağıdaki gibidir:

- Her biri sadece bir işlem yapmıştır.
- Sol taraftaki asansör 1, 3 ve 5. kata; sağ taraftaki asansör 2 ve 4. kata çıkmaktadır.
- Cüneyt, sağ taraftaki asansörü kullanmıştır.
- Emir, en üst kata çıkmıştır.
- Burçin'in soldaki asansöre bindiği ve 1. kata çıkmadığı bilinmektedir.

Doruk'un sağ taraftaki asansörü kullandığı bilindiğine göre aşağıdakilerden hangisi kesinlikle doğrudur?

- A) Cüneyt, 2. kata çıkmıştır. B) Doruk, 4. kata çıkmıştır.
C) Aykut, 1. kata çıkmıştır. D) Burçin, 5. kata çıkmıştır.

7. Anıl, Belinay, Cansel, Derin ve Evin isimli kişilerin bir banka şubesinde yaptıkları işlemler ile ilgili bilgiler aşağıdaki gibidir:

- Her biri sadece bir işlem yapmıştır.
- Bankada para yatırma, fatura ödeme, kredi başvurusunda bulunma, hesap açma ve sigorta işlemleri yapılmaktadır.
- İşlemler 09.00, 10.00, 11.00, 14.00 ve 15.00 saatlerinde yapılmıştır.
- Belinay'ın yaptığı işlem para yatırma veya hesap açma değildir.
- Anıl, sigorta işlemi yaparken Cansel kredi başvurusunda bulunmuştur.
- Para yatırma işlemi ve hesap açma işlemi öğleden sonra yapılmıştır.

Bu bilgilere göre aşağıdakilerden hangisi kesinlikle doğrudur?

- A) Belinay, öğleden sonra işlem yapmıştır. B) Derin, öğleden önce işlem yapmıştır.
C) Evin, hesap açma işlemi yapmıştır. D) Belinay, fatura ödeme işlemi yapmıştır.

8. Aydan, Belkız, Candan, Doruk ve Emiray isimli kişilerin gönderdikleri kargolar ile ilgili bilgiler aşağıdaki gibidir:

- Her biri, farklı ağırlıklarda ve bir adet kargo göndermiştir.
- Gönderilen kargo ağırlıkları; 100, 200, 300, 400 ve 500 gr'dır.
- Doruk, Aydan'dan 100 gr daha ağır bir kargo göndermiştir.
- Belkız, Aydan'dan 100 gr daha hafif bir kargo göndermiştir.
- Candan, en ağır kargoyu göndermiştir.
- En hafif kargoyu gönderen, Belkız değildir.

Bu bilgilere göre aşağıdakilerden hangisi doğrudur?

- A) Emiray, 100 gr ağırlığında bir kargo göndermiştir.
B) Doruk, 200 gr ağırlığında bir kargo göndermiştir.
C) Belkız, 300 gr ağırlığında bir kargo göndermiştir.
D) Aydan, 400 gr ağırlığında bir kargo göndermiştir.

9. Radarla hız kontrolü yapılan yolda seyir hâlinde olan araçlardan tır, kamyon, otobüs ve taksinin hızlarıyla ilgili bilinenler aşağıdaki gibidir:

- Hız sınırı tüm araçlar için aynıdır.
- İki araç, hız sınırını aşmıştır.
- Kamyon, hız sınırı olarak belirlenen hızda gitmektedir.
- Taksi ve otobüs, tırdan hızlı gitmektedir.

Bu bilgilere göre aşağıdakilerden hangisi kesinlikle yanlıştır?

- A) Tır, hız sınırını aşmıştır. B) Taksi, hız sınırını aşmıştır.
C) Otobüs, hız sınırını aşmıştır. D) Taksi, otobüsten hızlı gitmektedir.

10. Bir apartmandaki 1, 2, 3, 4 ve 5 numaralı dairelere gelen mektuplar ile ilgili bilinenler aşağıdaki gibidir:


- Her daireye sadece bir adet mektup gelmiştir.
- Postacı, mektupları posta kutusuna atarken yaptığı yanlışlık şöyledir: 1 numaralı dairenin mektubunu 2 numaralı dairenin posta kutusuna, 2 numaralı dairenin mektubunu 3 numaralı dairenin posta kutusuna olacak şekilde tüm mektupları birer sıra atlayarak posta kutusuna atmıştır.
- Durumu düzeltmek için posta kutularını açan apartman görevlisi de yanlışlık yapıp mektupları birer sıra atlayarak tekrar posta kutusuna atmıştır.

Bu bilgilere göre 3 numaralı dairenin kendisine gelen mektubu alabilmesi için hangi dairenin posta kutusunu açması gerekir?

- A) 4 numaralı daire
B) 1 numaralı daire
C) 5 numaralı daire
D) 2 numaralı daire


11.

Öğrenciler bir kelime oyunu bulmuşlardır. Bu oyuna göre öğrenciler yanda verilen piramidin tepesinden birbirine bağlı çemberler boyunca ilerleyerek tabana ulaşacaktır. Oyunun kuralı gereği yol boyunca her harf bir kez kullanılacaktır.

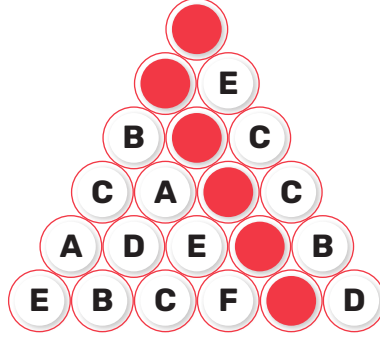


Buna göre aşağıdakilerden hangisi, tabana doğru yoldan ulaşan bir öğrencinin oluşturduğu şekil olabilir?


A)



B)



C)



D)

