
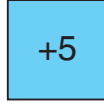


Adı ve Soyadı: _____

Sınıfı: _____

Numarası: _____

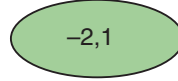
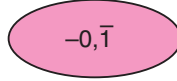
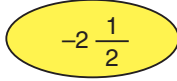
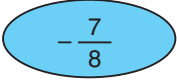
1.



Yukarıda verilen tam sayılardan herhangi ikisinin çarpımının en küçük değeri kaçtır?

2. $\frac{7}{6}$ rasyonel sayısına karşılık gelen devirli ondalık gösterimi yazınız.

3.



Yukarıda verilen rasyonel sayıları büyükten küçüğe doğru sıralayınız.

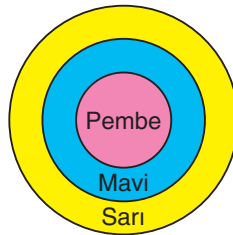
4. $-1\frac{6}{25}$ rasyonel sayısının ondalık gösterimini a, bc olduğuna göre $a + b + c$ kaçtır?

5. ■ = $(-8) + (-3)$

▲ = $(+10) - (-1)$

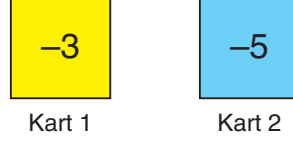
Eşitliklerinde ■ ve ▲ yerine yazılabilecek tam sayıları bulunuz.

6. Aşağıda verilen hedef tahtasında sarı bölgeye isabet eden her bir ok için -3 puan, mavi bölgeye isabet eden her bir ok için -2 puan ve pembe bölgeye isabet eden her bir ok için +1 puan kazanılmaktadır.



Her bölgeye en az bir atış isabet ettiğine göre 5 isabetli atış sonunda kazanılan en yüksek puan kaçtır?

7. Aşağıda bir yüzü mavi bir yüzü sarı renkli kartlar verilmiştir.



Mavi yüzdeki sayı, sarı yüzde yazılı olan tam sayının toplama işlemine göre tersine eşittir.

Buna göre Kart 1'in mavi yüzünde yazan tam sayı ile Kart 2'nin sarı yüzünde yazan tam sayının toplamı kaçtır?

- 8.

$$\underbrace{(-2) \cdot (-2) \cdot (-2) \dots (-2)}_{7 \text{ tane}} = \blacksquare \blacktriangle$$

Yukarıda verilen tekrarlı çarpımı üslü olarak ifade edildiğinde \blacksquare ve \blacktriangle yerine yazılabilecek tam sayıları bulunuz.

9. Aşağıda verilen sayı doğrusunda -2 ile 0 arası 5 eş parçaya ayrılmıştır.



Buna göre K noktasına karşılık gelen rasyonel sayıyı yazınız.

10. Bir iklimleme cihazı, oda sıcaklığını her 20 dakika bir 2°C soğutmaktadır.

Buna göre bu cihaz 27°C oda sıcaklığında 1 saat açık bırakılırsa oda sıcaklığı kaç $^{\circ}\text{C}$ olur?